

一、選擇題：每題 2 分，共 20 分

- () 1. 「240」讀作什麼？
 ① 二百四十零 ② 二百四十
 ③ 二百零四
- () 2. 10 個十合起來是多少？
 ① 10 ② 100 ③ 110
- () 3. 下面哪一個選項的答案和「 $45 + 69$ 」一樣？
 ① $45 + 96$ ② $96 + 54$ ③ $69 + 45$
- () 4. 算式「 $63 + 75 = 138$ 」中，被加數是什麼？
 ① 63 ② 75 ③ 138
- () 5. 哪個數最接近 $42 + 29$ ？
 ① 60 ② 70 ③ 80
- () 6. 5 根迴紋針的長度和 3 個橡皮擦一樣長。1 根迴紋針和 1 個橡皮擦比較，哪一個比較長？
 ① 迴紋針 ② 橡皮擦
 ③ 一樣長
- () 7. 下面哪一個選項的答案比 30 大？ ① $92 - 48$ ② $78 - 49$
 ③ $51 - 29$
- () 8. 算式「 $50 - 37 = 13$ 」可以用哪個算式驗算？
 ① $13 + 50$ ② $50 + 37$ ③ $13 + 37$
- () 9. 下面的直式中，「減數」是什麼？

$$\begin{array}{r} 39 \\ - 7 \\ \hline 32 \end{array}$$

 ① 39 ② 7 ③ 32
- () 10. 把兩杯一樣多的水，倒入兩個不同的容器中，水量會有什麼改變？
 ① 變少 ② 變多 ③ 不變

二、填填看看：第 1 題~第 6 題每答 1 分，

第 7 題~第 10 題每答 2 分，共 33 分

1. 填入適當的數。

(1.)

202		200		198	
-----	--	-----	--	-----	--

(2.)

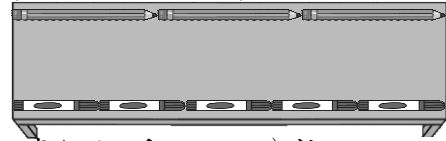
118	108			78	68
-----	-----	--	--	----	----

(3.)

	233		253	263	
--	-----	--	-----	-----	--

2. 237 的個位數字是 ()，十位數字是 ()，百位數字是 ()。

3. 看圖填填看看：



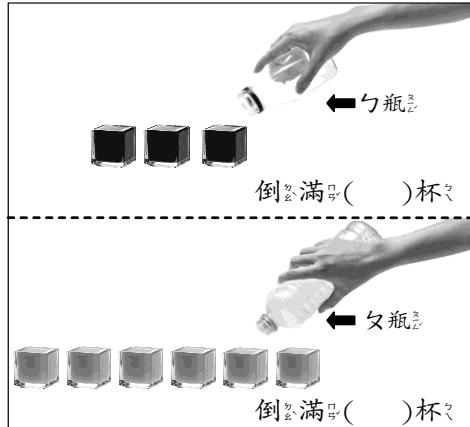
- (1) 桌子有 () 枝一樣長的。
- (2) 桌子有 () 枝一樣長的。
- (3) 哪一枝筆比較長？
 圈圖看看。(,)

4. 有多長？填填看看。



有 () 個 1 公分，是 () 公分。

5. 看圖填填看看：



勺瓶的容量比勺瓶的容量 ()。(填多或或少)

6. 觀察題目給的算式，

在 () 裡填入答案：

$14 + 18 = 32$

(1.) () - 14 = 18

(2.) $32 - () = 14$

7. 哪一個杯子裝的水比較多？ () 杯。



8. 哪一杯水比較少？ () 杯。



9. 1 個百和 12 個十可以換成 () 個十。

10. 根據下面 5 張數字卡，回答問題。

174	205	279	300	182
-----	-----	-----	-----	-----

(1) 哪一張數字卡的百位、十位和個位數字加起來是 12? ()

(2) 哪一張數字卡的百位數字比十位小，十位數字比個位小? ()

(3) 哪一張數字卡比 200 大，比 210 小? ()

三、比一比，在 \square 裡填入 $>$ 、 $<$ 或 $=$: 每題 2 分，共 8 分

(1.) $196 \square 269$

(2.) $289 \square$ 二百九十八

(3.) $26 + 28 \square 44$

(4.) $65 \square 93 - 28$

四、寫出直式算式看：每題 3 分，共 6 分

(1.) $29 + 71 = (\quad)$

(2.) $9 + 36 = (\quad)$

五、寫出直式算式看並驗算：每題 4 分，共 8 分

(1.) $64 - 9 = (\quad)$

驗算：

(2.) $74 - 36 = (\quad)$

驗算：

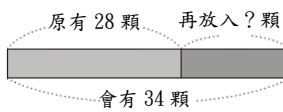
六、把做法用算式記下來。

每小題 5 分，共 25 分

1. 一條綠色彩帶長 52 公分，一條藍色彩帶長 38 公分，哪一條彩帶比較長？長幾公分？

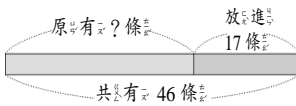
答：_____，_____

2. 糖果罐裡原有 28 顆糖果，再放入幾顆糖果後，糖果罐裡就有 34 顆糖果？



答：_____

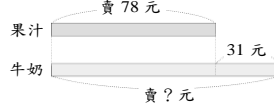
3. 魚缸裡原有 一些魚，再放進 17 條，共有 46 條，魚缸裡原有幾條魚？



答：_____

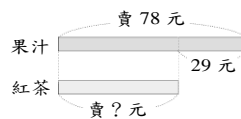
4. 一瓶果汁賣 78 元。

(1) 一瓶果汁比一瓶牛奶便宜 31 元，一瓶牛奶賣幾元？



答：_____

(2) 一瓶果汁比一瓶紅茶貴 29 元，一瓶紅茶賣幾元？



答：_____