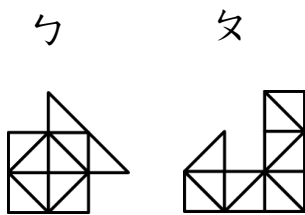


一、選擇題：(每題 2 分，共 10 分)

() 1. 下面的敘述，哪一個是對的？

- ① 一本課本的封面比一張教室的桌面大
- ② 一臺電視比一隻手機的面積小
- ③ 一個 10 元硬幣比一個 5 元硬幣的面積小
- ④ 一張考卷比一張學生卡的面積大

() 2. 下面圖形都是由相同三角形組成的，數一數，哪一個圖形的面積比較大？



- ① 1 比較大
- ② 2 比較大
- ③ 一樣大
- ④ 無法比較

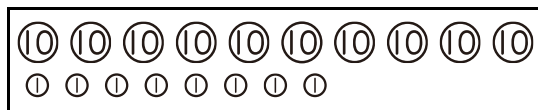
() 3. 姐姐只有 10 錢幣，想要買 145 元的鉛筆盒，最少要付多少個 10 才夠？

- ① 14 個
- ② 15 個
- ③ 16 個
- ④ 145 個

() 4. 「一百四十三」的阿拉伯數字如何表示？

- ① 140
- ② 130
- ③ 143
- ④ 134

() 5. 下圖中一共有多少元？



- ① 98 元
- ② 99 元
- ③ 107 元
- ④ 108 元

二、用直式計算算看，並驗算：(每題 4 分，共 8 分)

(1) $36 + 48 = ()$ 驗算：

(2) $65 - 29 = ()$ 驗算：

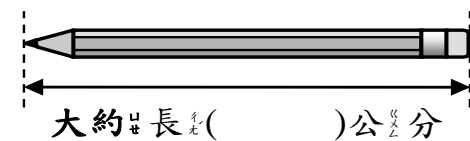
三、填填看：(每格 2 分，共 30 分)

1. $86 - 96 - () - () - 126$

2. $() - () - 198 - 197$

3. $140 - () - () - 110$

4. 這枝筆大約長幾公分？



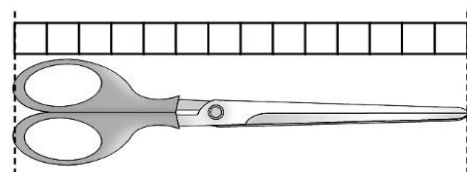
5. 159 是 () 個一、() 個十和 () 個百合起來的。

6. 172 讀作 ()。

7. 1 張 100 可以換成 () 個 10 也可以換成 () 個 5

8. 12 個十和 3 個一，合起來是 ()。

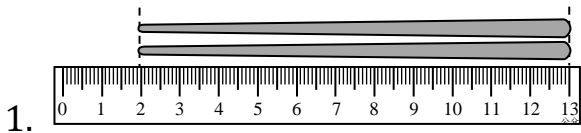
9. 下面的物品和幾個 1 連起來一樣長？



() 個

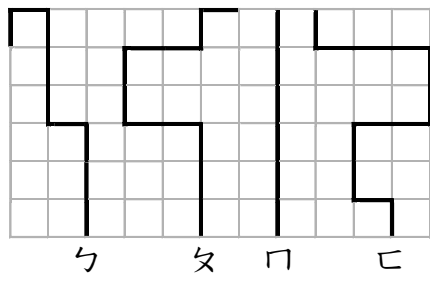
背面還有題目

四、看圖填填看(每格 2 分, 共 20 分)



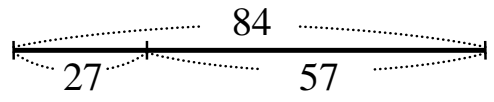
1. (1) 筷子長()公分。
 (2) 一枝湯匙比筷子短 3 公分, 湯匙和筷子共長()公分。

2. 每一格長都是 1 公分, 4 條繩子分別長幾公分?



- ㄅ : ()公分 ㄆ : ()公分
 ㄇ : ()公分 ㄊ : ()公分

3. 看圖填填看。



- (1) $27 + 57 = ()$
 (2) $84 - 27 = ()$
 (3) $84 - 57 = ()$
 (4) $57 + 27 = ()$

五、在 () 裡填入 $>$ 、 $<$ 或 $=$:

- (每個答案 2 分, 共 10 分)
 1. 189 () 186
 2. 148 () 161
 3. 173 () $100 + 73$
 4. 182 () 128
 5. 1 個百、5 個十和 7 個一 () 175

六、畫畫看: (2 分)

從黑點開始, 畫一條長 8 公分的直線。
 .

七、寫出算式、直式和答案: (每題 4 分, 共 20 分)

1. 全班有 29 個小朋友, 老師一個人發 1 枝鉛筆, 鉛筆還剩下 88 枝, 老師原來有幾枝鉛筆?

答:

2. 一枝雨傘長 26 公分, 另一枝雨傘長 28 公分, 兩枝雨傘接起來, 一共長幾公分?

答:

3. 一包餅乾有 65 個, 爸爸買了 2 包, 一共有多少個餅乾?

答:

4. 弟弟有 62 元, 弟弟比哥哥少 48 元, 哥哥有多少元?

答:

5. 把一條緞帶對摺後長 9 公分, 這條緞帶原來的長度是多少公分?

答:

寫完了, 要仔細檢查喔!