

# 桃園市桃園區建德國小 110 學年度第二學期一年級數學領域 期末定期評量試卷

一一年<sub>3</sub>班<sub>7</sub> 座號<sub>6</sub>： 姓名<sub>2</sub>：

一、按<sub>3</sub>照<sub>3</sub>順<sub>3</sub>序<sub>3</sub>填<sub>3</sub>看<sub>3</sub>： 每格1分，共10分

- ( ) → 99 → 98 → ( ) → ( )
- 65 → 55 → ( ) → ( ) → 25 → ( ) → ( )
- 30 → ( ) → 50 → ( ) → 70 → ( ) → 90

二、填<sub>3</sub>填<sub>3</sub>看<sub>3</sub>： 每格2分，共26分

- 6個十和14個一合起來是( )。
- 比80大，比90小，個位數字是8，這個數是( )。
- 買77元的鉛筆盒，用10元來付，最少要( )個才夠。

4. 1張100可以換成( )個5。

5. 買50元的餅乾，要付4個十元元和( )個五元元。

6. 把日期先<sub>3</sub>後<sub>3</sub>順<sub>3</sub>序<sub>3</sub>用1~4排出來。

6月10日	5月1日	4月26日	5月11日
( )	( )	( )	( )

7. 計算題：

- |                     |                     |
|---------------------|---------------------|
| (1) $36 + 20 = ( )$ | (2) $49 - 26 = ( )$ |
| (3) $15 + 8 = ( )$  | (4) $53 - 7 = ( )$  |

三、圈<sub>3</sub>圈<sub>3</sub>看<sub>3</sub>： 每題2分，共10分

1. 個位數字是4，十位數字是3的數是<sub>3</sub>多<sub>3</sub>少<sub>3</sub>？請<sub>3</sub>圈<sub>3</sub>起<sub>3</sub>來。

( 43 , 34 )

2. 把<sub>3</sub>最<sub>3</sub>大<sub>3</sub>的<sub>3</sub>數<sub>3</sub>圈<sub>3</sub>起<sub>3</sub>來。


( 24 , 39 , 59 , 35 )

3. 誰的錢比較多？

妮妮	
奇奇	

(妮妮，奇奇，一樣多)

4. 圈<sub>3</sub>圈<sub>3</sub>看<sub>3</sub>，買一盒77元的色鉛筆，可以<sub>3</sub>怎<sub>3</sub>麼<sub>3</sub>付<sub>3</sub>錢<sub>3</sub>才<sub>3</sub>會<sub>3</sub>剛<sub>3</sub>好<sub>3</sub>？



5. 恩恩有1個50、2個10和2個5，買一瓶果汁要88元，這樣夠<sub>3</sub>不<sub>3</sub>夠<sub>3</sub>付<sub>3</sub>錢<sub>3</sub>？圈<sub>3</sub>圈<sub>3</sub>看<sub>3</sub>。

( 不<sub>3</sub>夠<sub>3</sub> , 夠<sub>3</sub> )

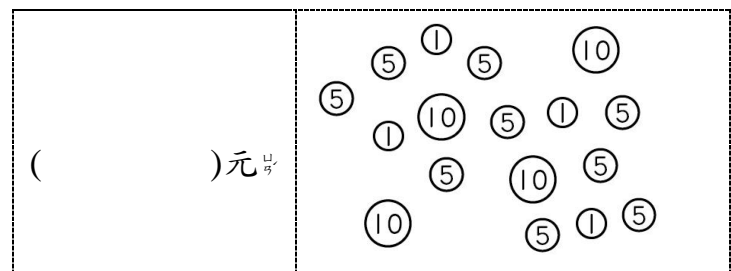
四、看<sub>3</sub>圖<sub>3</sub>填<sub>3</sub>填<sub>3</sub>看<sub>3</sub>： 每格2分，共36分

1. 下面<sub>3</sub>是<sub>3</sub>百<sub>3</sub>數<sub>3</sub>表<sub>3</sub>的<sub>3</sub>一<sub>3</sub>部<sub>3</sub>分<sub>3</sub>，填<sub>3</sub>填<sub>3</sub>看<sub>3</sub>。

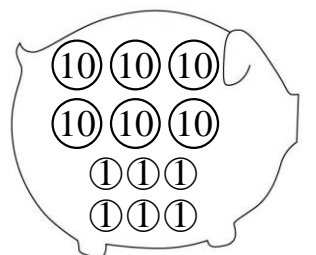
		ㄨ	
ㄨ	72		
		83	口

- ㄨ的位<sub>3</sub>置<sub>3</sub>要<sub>3</sub>填<sub>3</sub>入<sub>3</sub>( )。
- ㄨ的位<sub>3</sub>置<sub>3</sub>要<sub>3</sub>填<sub>3</sub>入<sub>3</sub>( )。
- 口的位<sub>3</sub>置<sub>3</sub>要<sub>3</sub>填<sub>3</sub>入<sub>3</sub>( )。

2. 圖<sub>3</sub>中<sub>3</sub>一<sub>3</sub>共<sub>3</sub>有<sub>3</sub>多<sub>3</sub>少<sub>3</sub>元<sub>3</sub>？

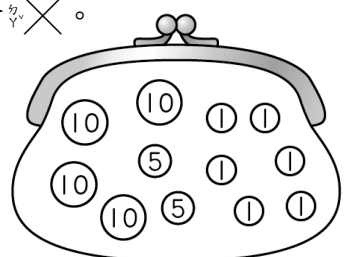


3. 下<sub>3</sub>圖<sub>3</sub>是<sub>3</sub>小<sub>3</sub>伶<sub>3</sub>存<sub>3</sub>的<sub>3</sub>錢<sub>3</sub>，用<sub>3</sub>掉<sub>3</sub>40元<sub>3</sub>後<sub>3</sub>，還<sub>3</sub>剩<sub>3</sub>下<sub>3</sub>( )元。




4. 皮<sub>3</sub>包<sub>3</sub>中<sub>3</sub>的<sub>3</sub>錢<sub>3</sub>，可<sub>3</sub>以<sub>3</sub>買<sub>3</sub>哪<sub>3</sub>些<sub>3</sub>東<sub>3</sub>西<sub>3</sub>？請<sub>3</sub>在<sub>3</sub>□裡<sub>3</sub>打<sub>3</sub>√，不<sub>3</sub>能<sub>3</sub>買<sub>3</sub>的<sub>3</sub>打<sub>3</sub>×。

- 40元的剪刀
- 50元的珍珠奶茶
- 60元的可愛文具組



5.



45元

30元

32元

(1) 一枝 比一罐 貴( )元。

(2) 買一枝 和一個 共要( )元。

6. 右圖是今天的日曆，

明天就是校外教學的日子，看圖回答問題。

28 六月

(1) 要校外教學那一天是六月( )日，星期( )。

星期二

(2) 亮亮昨天生日，昨天是六月( )日，星期( )。

7.

9月						
日	一	二	三	四	五	六
/	/	/	/	1	2	3
4	5	6	7	8	9	10
11	12	13	14	15	16	17
18	19	20	21	22	23	24
25	26	27	28	29	30	/

(1) 9月有( )個星期日。

(2) 小美每個星期五都要上鋼琴課，9月一共有( )天要上鋼琴課。

(3) 阿成的生日是9月19日，是9月的第( )個星期( )。

五、畫畫看看，做做看看：每題3分，共6分

1. 買下面東西，要怎麼用(10)、(5)及(1)付錢？(3種錢幣都要用到)

27元	

2. 姐姐有59元，買髮夾花了27元，還剩下幾元？畫(10)和(1)做做看看，再用算式記下來。

算式：

答：剩下( )元

六、寫出算式做做看看：每題3分，共12分

1. 有45顆蓮霧和11顆水蜜桃，蓮霧比水蜜桃多幾顆？

算式：  
答：( )顆

2. 小宸有34張寶可夢卡牌，姐姐又送給他6張，現在小宸一共有幾張卡牌？

算式：  
答：( )張

3. 陳老師出了33題數學題目，萱萱已經做了9題，還剩下幾題沒做完？

算式：  
答：( )題

4. 端午節到了，商店的架子上原來有24個香包，又掛上10個，現在有幾個香包？

算式：  
答：( )個

恭喜你寫完了！請記得多檢查幾次。預祝你有一個愉快的暑假。