

桃園市桃園區建德國小 110 學年度第一學期三年級數學領域 期末定期評量試卷

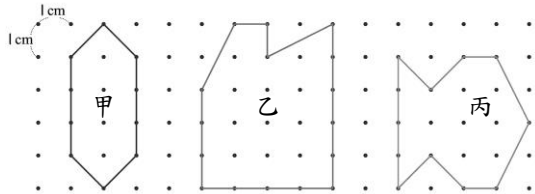
年 班 座號： 姓名：

一、 選擇題：(每題 2 分，共 10 分)

() 1. 嘉嘉想用一星期存錢，買一個 56 元的鉛筆盒，如果每天存的錢一樣多，她每天要存幾元？

- ①7 元 ②8 元 ③9 元 ④10 元

() 2. 下面圖形的面積由大到小的順序是什麼？



- ①甲 > 乙 > 丙
②丙 > 乙 > 甲
③乙 > 丙 > 甲
④丙 > 甲 > 乙

() 3. 一束花裡有 9 朵玫瑰花，其中有 $\frac{4}{9}$ 束的紅玫瑰、2 朵的藍玫瑰和 3 朵的黃玫瑰，哪種顏色的玫瑰最少？

- ①紅玫瑰 ②藍玫瑰
③黃玫瑰 ④一樣多

() 4. 下面哪一個選項最重？

- ①5 公斤 ②70 公克
③650 公克 ④4999 公克

() 5. 把下面四種水果，平分給三戶人家，盡量分完，最後哪一種水果還有剩下？

- ①27 顆橘子 ②18 顆哈密瓜 ③25 顆蘋果 ④15 顆奇異果

二、 填填看或勾勾看：(第 1 題，每格 2 分；第 2 到 7 題，每格 1 分，共 40 分)

1. 按照順序填填看。

() $\rightarrow \frac{5}{11} \rightarrow$ () $\rightarrow \frac{7}{11} \rightarrow \frac{8}{11} \rightarrow$ ()

2. 一壺茶剛好可以倒滿 8 杯。

(1) 爸爸端茶請客人喝，一個客人喝 1 杯，是喝了 () 壺茶。

(2) 全部的客人喝了 3 杯，是喝了 () 壺茶。

(3) 爺爺喝了 $\frac{2}{8}$ 壺茶，也就是喝了 () 杯。

(4) 接第(2)、(3)題，最後還剩下 () 杯，也可以說是 () 壺茶。

3. 活動中心裡有 42 張椅子。

(1) 每一排有 7 張椅子，一共排成 () 排。

(2) 平分排成 6 排，盡量分完，每排有 () 張椅子。

4. 有一個偶數 5■，只知道 $52 < 5■$ ，這個偶數可能是多少？在□裡打√。(答案不只一個)

- 55 □54 □58 □59 □53 □56

5. 可能的餘數有哪些？在□裡打√。

() $\div 4 =$ () $\dots \star$

★可能的數字是：

- 0 □1 □2 □3 □4
□5 □6 □7 □8 □9

6. 填入【公斤】或【公克】。

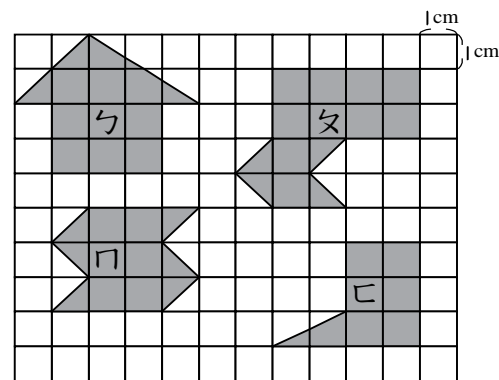
(1) 剛出生的小嬰兒大約重 3280 ()。

(2) 一包米大約重 2 ()。

(3) 一顆西瓜大約重 10 ()。

(4) 一把剪刀大約重 40 ()。

7.



(1) ㄅ：() cm^2 ，ㄆ：() cm^2 ，
ㄇ：() cm^2 ，ㄊ：() cm^2 。

(2) () 的面積最大，() 的面積最小，相差 () cm^2 。

三、 在□裡填入 >、< 或 = (每題 2 分，共 8 分)

(1) 9905 公克 □ 9 公斤 95 公克

(2) 2 公斤爆米花的重量 □ 2 公斤鐵球的重量

(3) $\frac{6}{7}$ □ 1

(4) $\frac{9}{10}$ □ $\frac{5}{10}$

四、 寫成直式算算看：(每題 3 分，共 12 分)

(1) $41 \div 6 =$

(2) $65 \div 9 =$

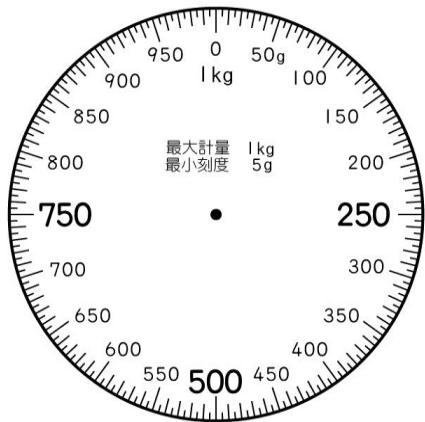
(3) $2180 \text{ 公克} + 1 \text{ 公斤 } 380 \text{ 公克}$
 $=$ () 公斤 () 公克

【背面還有題目】

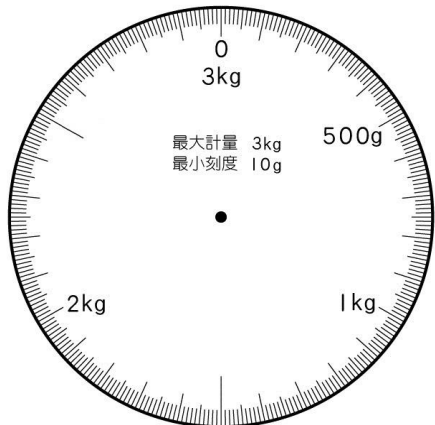
(4) 4 公斤 144 公克 - 1098 公克
= () 公斤 () 公克

五、 畫畫看：(每個圖 2 分，共 10 分)

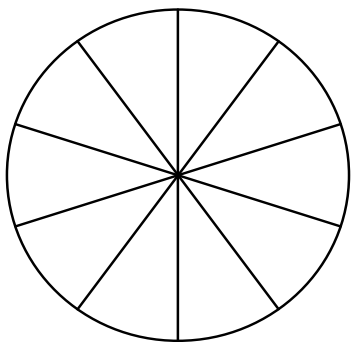
1. 260 公克會指到哪裡？




2. 2 公斤 950 公克的指針會指在哪裡？



3. 塗出 $\frac{4}{10}$ 個蘋果派



4. 畫出兩個面積都是 16 平方公分，但形狀不同圖形。



六、 把做法和答案記下來：(每題 4 分，共 20 分)

(1) 文瑞 出生時的體重是 2 公斤 670 公克，雙胞胎哥哥 出生時體重是 2230 公克，誰的體重比較輕？輕多少公克？

(2) 水果禮盒重 3 公斤 250 公克，罐頭禮盒比水果禮盒重 680 公克，罐頭禮盒重多少公斤多少公克？

(3) 遊樂園裡一臺小型遊園車可以坐 5 個人，三年三班 29 個人最少需要幾臺遊園車才夠？

(4) 一顆蘋果賣 24 元，買 3 顆蘋果的價錢，剛好可以買 8 個柳丁，一個柳丁賣幾元？

(5) 一袋吐司有 12 片。軒軒 吃了 $\frac{3}{12}$ 袋，恩恩 吃了 2 片，誰吃的吐司比較多？

【恭喜你寫完了，請記得檢查！】