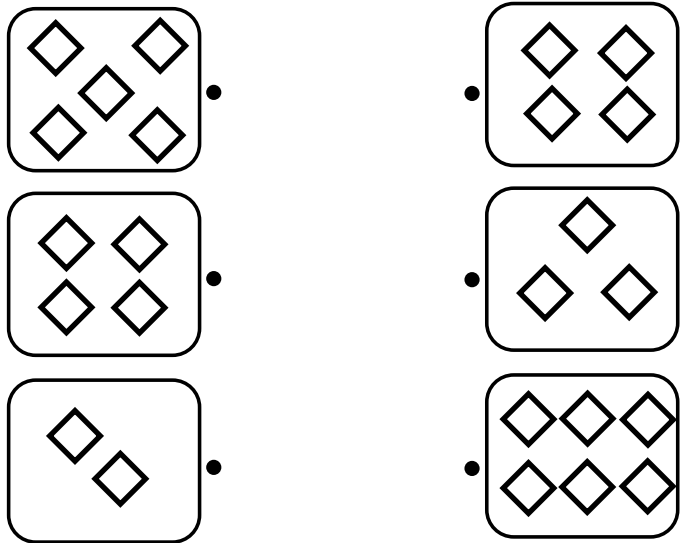


一、連連看(每答 2 分，共 6 分)

合起來有 8 個



二、填填看(每答 2 分，共 40 分)

1. 圈出比 16 小的數

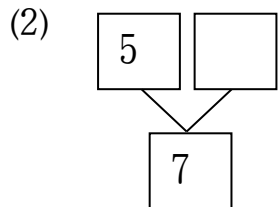
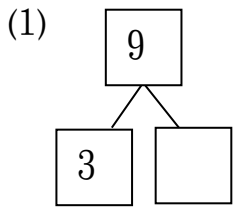
12 14 18 10 22

2. 比 26 大，比 28 小的數是 ( )。

3. 按照順序填填看

18 → ( ) → ( ) → 15 → ( ) → 13

4. 分與合，填出正確的數字



5. (1)  $10 - 3 = ( )$

(2)  $5 + 4 = ( )$

(3)  $6 - 6 = ( )$

6. 把前面 5 隻狗圈起來。



第 1 隻

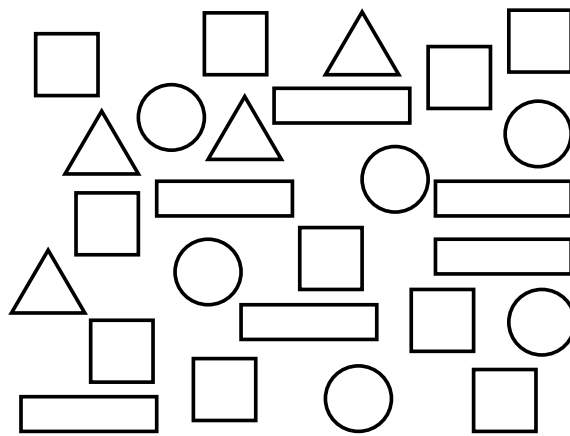
7. 把第 2 隻狗圈起來。



第 1 隻

8. (1) 排隊打預防針，愷愷排在第 12 個，愷愷的前面有 ( ) 個人  
 (2) 軒軒排在愷愷的後面一位，他是最後一個，總共 ( ) 個人在排隊。

9. 看看圖數數看



(1) 有 ( ) 個正方形


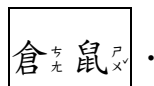

(2) 有 ( ) 個長方形

(3) 有 ( ) 個三角形

(4) 有 ( ) 個圓形

三、做做看看(每答 2 分，共 34 分)

1. 無尾熊先去找兔子，再去找倉鼠，幫牠畫出最短的路線。




2. 最厚打✓，最薄打✗。



( ) ( ) ( ) ( )

3. 最長打✓，最短打✗。



( ) ( ) ( ) ( )

4. 以下物品都是平平的面請打✓，只有彎彎的面請打✗。

( ) 籃球 ( ) 紙箱 ( ) 礦泉水瓶

5. 一天之內，下面事情最早發生打✓，最晚打✗。

( ) (1) 中午 12 點鐘吃午餐

( ) (2) 晚上 7 點鐘吃晚餐

( ) (3) 上午 8 點鐘到學校

( ) (4) 下午 4 點鐘放學

請翻面作答

6. 哪一個鐘面是對的？在( )裡打✓。

(1) 爸爸早上7點鐘吃早餐。



( )



( )

(2) 恩恩下午2點半上鋼琴課。





( )



( )

7. 白雪公主、小矮人及動物們排隊買票準備進入電影院。




(1)  是排在第( )個；

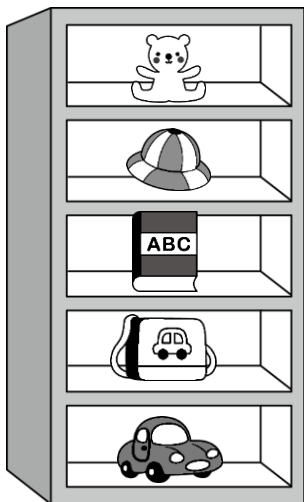
她後面有( )個人。

(2) 排在第3個的是



(3)  是排在第( )個。

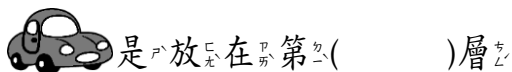
8. 下面是小穎的置物櫃，觀察擺放物品的順序。



(1) 從上往下數，第3層放的是



(2) 從下往上數，



四、用算式記記看(每題4分，共20分)

1. 教室書櫃有8本故事書，同學拿走了3本後，書櫃還有幾本故事書？

算式：

答：( )本故事書

2. 錢包裡原來有10個1元硬幣，花掉了7個1元硬幣後，錢包裡還有幾個1元硬幣？

算式：

答：( )個1元硬幣

3. 操場上有6個人在跑步，2個人在玩遊戲，操場上共有幾個人在玩遊戲？

算式：

答：( )個人

4. 荷葉上原來有4隻青蛙，再跳來3隻，荷葉上現在有幾隻青蛙？

算式：

答：有( )隻青蛙

5. 永安到夜市玩投籃機，第1次投進4顆，第2次都沒投進，永安共投進幾顆球？

算式：

答：( )顆

寫完後，請仔細檢查。