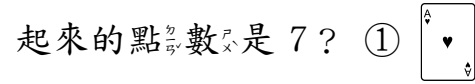


一年( )班( )號 姓名: \_\_\_\_\_

一、選出正確的答案：每題 2 分，共 10 分。

1. ( ) 和下面哪一張撲克牌合起來的點數是 7？



- ① ② ③

2. 「25」怎麼讀？  
① 二五 ② 五二 ③ 二十五。

3. 上課和下課哪一個花的時間比較長？  
① 上課 ② 下課 ③ 一樣長。

4. 灰色面的面可以描出哪一個形狀？  
① ② ③

5. 下面哪一個時鐘，是錯誤的？  
① ② ③

二、填填看看：每格 1 分，共 23 分

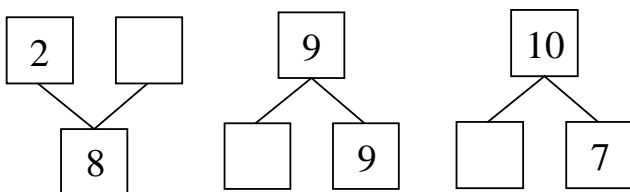
1.  $6 - ( ) - ( ) - 9 - 10 - ( )$

2.  $30 - 29 - ( ) - ( ) - 26 - ( )$

3. (1)  $10 - 8 = ( )$  (2)  $6 + 3 = ( )$

(3)  $5 + 5 = ( )$  (4)  $0 + 5 = ( )$

(5) (6) (7)



4. 比 14 大的數打  $\checkmark$ 。

- 15 ( ) 3 ( ) 18 ( ) 11 ( )

5. 老師倒了 19 杯果汁給 27 個小朋友，一個人分到 1 杯果汁，果汁夠不夠？請打  $\checkmark$ 。(2 分)

夠  不夠


6. 短針指在 ( ) 和 ( ) 中間，長針指著 ( )，是 ( ) 點半。

三、看圖回答問題：每格 2 分，共 49 分。

1. 哪些只有平的面打  $\checkmark$ ；哪些只有彎彎的面打  $\times$ ；哪些有平的面，也有彎彎的面打  $\bigcirc$ ：

(1) ( ) 	(2) ( ) 	(3) ( ) 
(4) ( ) 	(5) ( ) 	(6) ( ) 

2. 數數看看：



(1) 三角形有 ( ) 個

(2) 圓形有 ( ) 個

(3) 正方形有 ( ) 個

(4) 長方形有 ( ) 個

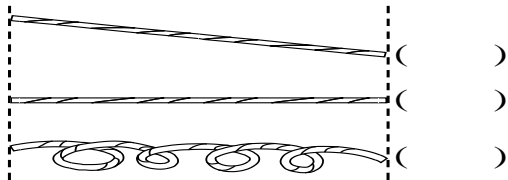
◎ 背面還有題目喔！



(1) 從左邊數起，蛇排在第( )個

(2) 把右邊數來第3隻動物圈起來

4. 下面有3條繩子，最長的在( )裡打 $\checkmark$ ，最短的在( )裡畫 $\bigcirc$ 。(3分)



5. 圈圈看看：

身高最矮的是



6. 下面黑色的線是直線或曲線？在( )中打 $\checkmark$ ：(2分)




(1) 全部有( )個人在排隊。

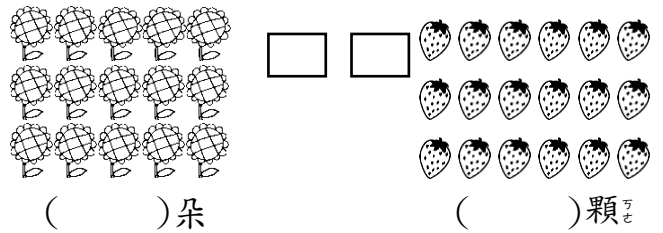
(2) 排在第( )個，他的前1個是排在第( )個。

(3) 小青的前面排了10個人，他排在第( )個。

8. 下圖是弟弟上學，用1、2、3表示事情發生的先後順序。



9. 數一數，寫出數量，再比比看哪個比較多，在 $\square$ 裡打 $\checkmark$ (4分)



四、用算式記記看：每題4分，共18分(第3題6分)

1. 桌上有8瓶養樂多，分給8個小朋友一個人分1瓶，還剩下幾瓶養樂多？  
算式：

答：還剩下( )瓶養樂多

2. 樹上原來有6隻小鳥，又飛來4隻，現在樹上一共有幾隻小鳥？  
算式：

答：有( )隻小鳥

3. 姐姐有4顆糖果，妹妹有7顆糖果，姐姐比妹妹少幾顆糖果？先畫 $\bigcirc$ ，再寫出算式。

畫 $\bigcirc$   $\rightarrow$  姐：

妹：

算式：

答：姐比妹少( )顆

4. 小山用紙摺了4顆星星，後來又摺了4顆，他一共摺了幾顆星星？  
算式：

答：( )顆星星

終於寫完了！要記得檢查喔！

