


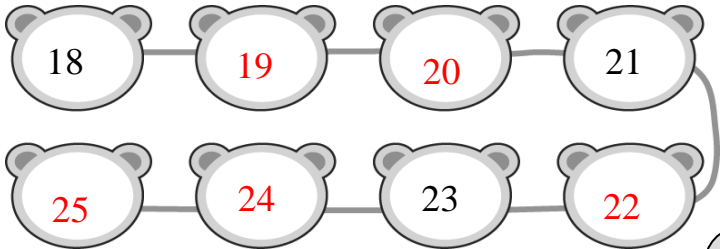
一、填填看看:(每題答 2 分, 共 30 分)



左邊 右邊


- (1) 從右邊算起, 排在第 (5) 個。
 (2) 從左邊算起, 排在第 (4) 個。

2. 依照順序填上數字。



3. 看圖數一數。

- (1) 有 (6) 個三角形。
 (2) 有 (2) 個圓形。
 (3) 有 (6) 個長方形。



4. 請寫出正確的時間。

<p>琳瞳家吃晚餐</p> <p>晚上 (6) 點半</p>	<p>瑜晏家吃晚餐</p> <p>晚上 (7) 點</p>
----------------------------------	---------------------------------

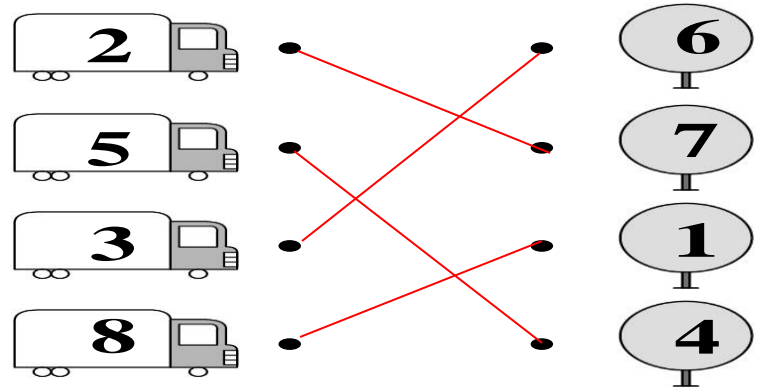
5. 彥霆的奶奶收養了 10 隻流浪貓, 後來鄰居又送給她 1 隻流浪貓, 現在彥霆的奶奶共有 (11) 隻流浪貓。

6. 宗祐有 20 顆蘋果, 宗祐吃掉 1 顆蘋果, 現在還剩下 (19) 顆蘋果。

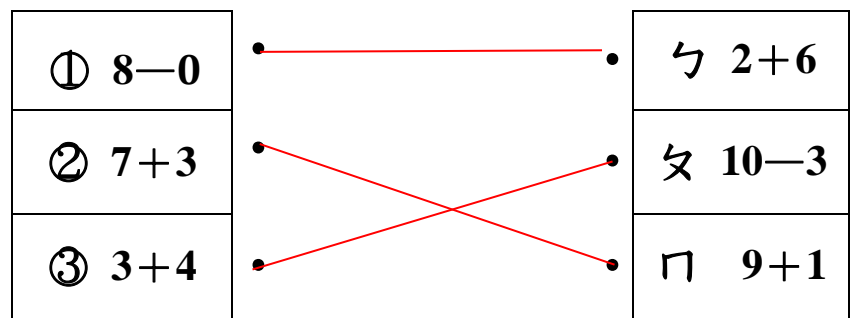
7. 祐翔有一盒戳戳樂共 30 格, 祐翔戳破 1 格剩下 29 格, 爸爸又戳破 1 格剩下 (28) 格。

二、連連看看:(每題答 2 分, 共 14 分)

(1) 多少和多少合起來是 9 ?



(2) 把答案一樣連起來。




三、圈圈看看:看圖回答下面的問題:
 (每題答 2 分, 共 6 分)

(1) 從 數起, 把排在第 6 個的小朋友圈起來。



(2) 立齊有 8 個寶可夢娃娃, 送給恩嫻 1 個寶可夢娃娃, 還剩下幾個娃娃?
 請圈出正確的算式。

(8-1=7 , 8+1=9)




(3) 哪一個比較薄? 圈一圈。



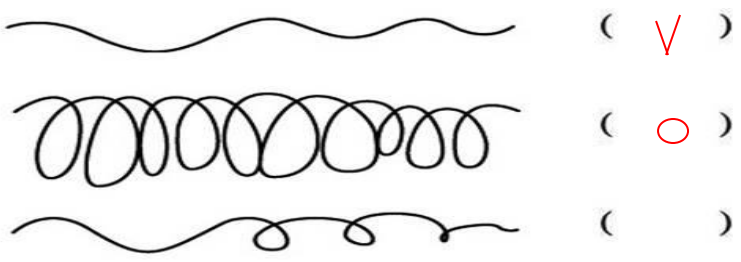
背面還有題目喔!

四、看圖填填看：(每題2分，共26分)

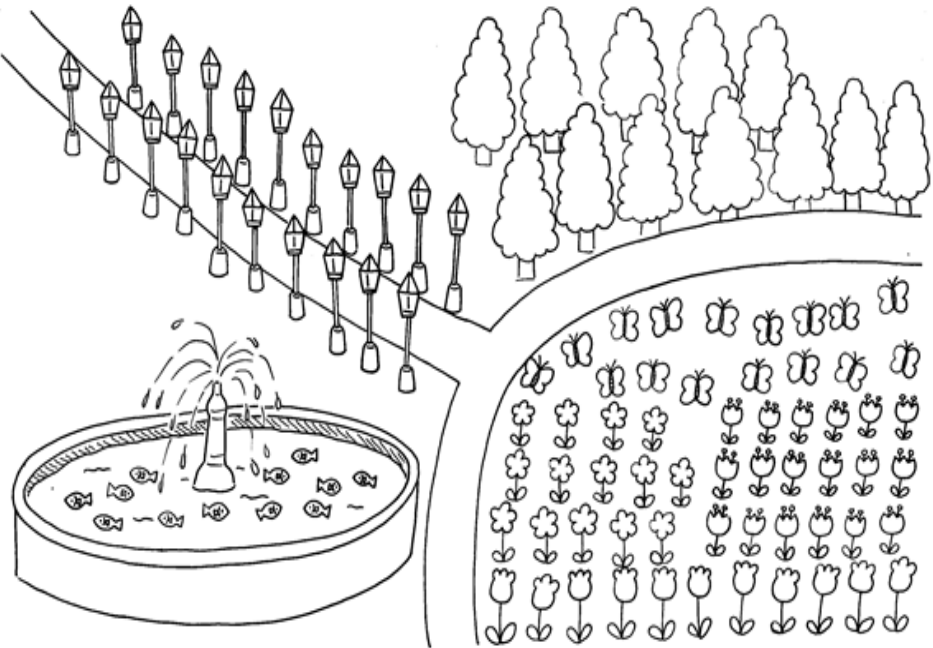
1 身高最高的打「○」，最矮的打「V」。



2 最長的畫「○」，最短的打「V」。



3 幸福公園有許多美麗的花草樹木，還有噴水池，人行道的兩旁還設有美麗的路燈呢！



(1) 數一數，有多少？最多的打「V」，

項目				
個數	12	20	16	11
最多的打 V		V		

4



短針指到(8) 和(9)的中間，長針指到(6)，是(8)點半。

五、寫出算式做做看：

(每題4分，共24分)

1 芸嫻和榮謙玩跳繩，芸嫻跳了3下，榮謙跳了7下，兩個人共跳了幾下？

算式： $3+7=10$

答：(10)下。

2 乙婷的錢包裡有8元，買了一塊橡皮擦花了8元，請問乙婷的錢包裡還剩下多少元？

算式： $8-8=0$

答：(0)元。

3 郁岑看了6本書，柏豫看了4本書，請問兩個人共看了幾本書？

算式：

$6+4=10$

答：(10)本。

4 桌上有8顆糖果，伯睿和兆頡各拿了1顆，請問桌上還有幾顆糖果？

算式：

$8-2=6$

答：(6)顆。

5 永芯排隊買票，她排在第5個，後面還有5個人，請問一共有幾個人在排隊？

算式：

$5+5=10$

答：(10)人。

6 彥霖手上握了7個氣球，飛走了2個，請問彥霖手上還有幾個氣球？

算式：

$7-2=5$

答：(5)個。



寫完後，請仔細檢查喔！