


一、填填看看:(每題答 2 分, 共 30 分)

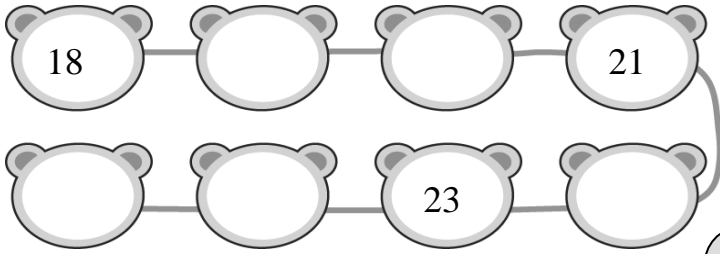


左邊

右邊


- (1) 從右邊算起, 排在第 ( ) 個。  
 (2) 從左邊算起, 排在第 ( ) 個。

2. 依照順序填上數字。





3. 看圖數一數。

- (1) 有 ( ) 個三角形。  
 (2) 有 ( ) 個圓形。  
 (3) 有 ( ) 個長方形。



4. 請寫出正確的時刻。

<p>琳瞳家吃晚餐</p>  <p>晚上 ( ) 點半</p>	<p>瑜晏家吃晚餐</p>  <p>晚上 ( ) 點</p>
--	---









5. 彥霆的奶奶收養了 10 隻流浪貓, 後來鄰居又送給她 1 隻流浪貓, 現在彥霆的奶奶共有 ( ) 隻流浪貓。

6. 宗祐有 20 顆蘋果, 宗祐吃掉 1 顆蘋果, 現在還剩下 ( ) 顆蘋果。

7. 祐翔有一盒戳戳樂共 30 格, 祐翔戳破 1 格剩下 29 格, 爸爸又戳破 1 格剩下 ( ) 格。

二、連連看看:(每題答 2 分, 共 14 分)


(1) 多少和多少合起來是 9 ?

	•	•	
	•	•	
	•	•	
	•	•	

(2) 把答案一樣的一樣連起來。

① 8-0	•	•	ㄅ 2+6
② 7+3	•	•	ㄆ 10-3
③ 3+4	•	•	ㄏ 9+1


三、圈圈看看: 看圖回答下面的問題:  
 (每題答 2 分, 共 6 分)

(1) 從  數起, 把排在第 6 個的小朋友 圈 起來。



(2) 立齊有 8 個寶可夢娃娃, 送給恩嫻 1 個寶可夢娃娃, 還剩下幾個娃娃?  
 請 圈 出正確的算式。

( 8 - 1 = 7 , 8 + 1 = 9 )




(3) 哪一個比較薄? 圈一圈。

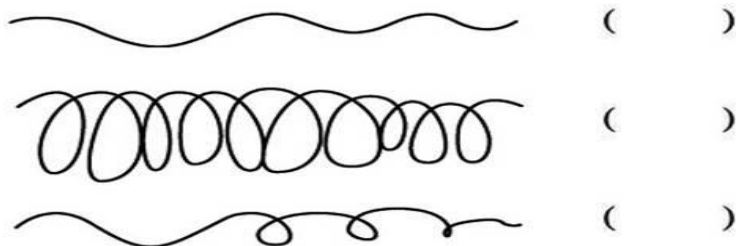


四、看圖填填看：(每題2分，共26分)

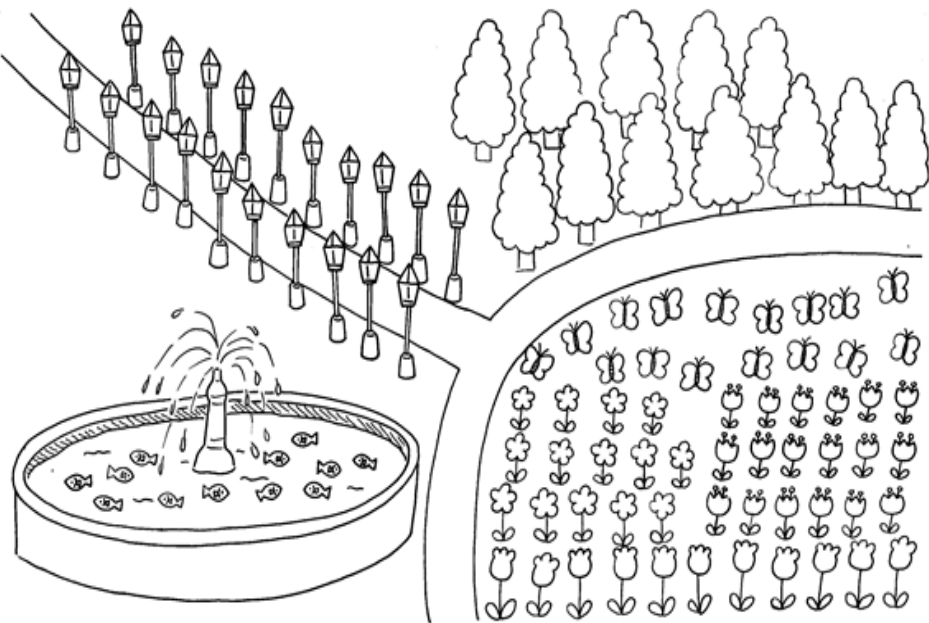
1 身高最高的打「○」，最矮的打「V」。



2 最長的畫「○」，最短的打「V」。



3 幸福公園有許多美麗的花草樹木，還有噴水池，人行道的兩旁還設有美麗的路燈呢！



(1) 數一數，有多少？最多的打「V」。

項目				
個數				
最多的打V				

4



短針指到( )和( )的中間，長針指到( )，是( )點半。

五、寫出算式做做看：

(每題4分，共24分)

1 芸嫻和榮謙玩跳繩，芸嫻跳了3下，榮謙跳了7下，兩個人共跳了幾下？

算式：

答：( )下。

2 乙婷的錢包裡有8元，買了一塊橡皮擦花了8元，請問乙婷的錢包裡還剩下多少元？

算式：

答：( )元。

3 郁岑看了6本書，柏豫看了4本書，請問兩個人共看了幾本書？

算式：

答：( )本。

4 桌上有8顆糖果，伯睿和兆頡各拿了1顆，請問桌上還有幾顆糖果？

算式：

答：( )顆。

5 永芯排隊買票，她排在第5個，後面還有5個人，請問一共有幾個人在排隊？

算式：

答：( )人。

6 彥霖手上握了7個氣球，飛走了2個，請問彥霖手上還有幾個氣球？

算式：

答：( )個。



寫完後，請仔細檢查喔！