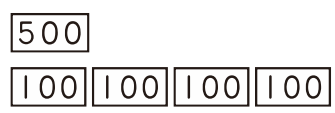


桃園市建德國小 114 學年度第二學期二年級數學領域期中定期評量試卷

二年 班 座號： 姓名：

一、選擇題：(每題 2 分，共 22 分)

- () 1. 990 再往上數多少個 1 就是 1000? ①1 ②10 ③100 ④110
- () 2. 下面關於「301」的說法，哪一個不正確?
 ①讀作「三百零一」
 ②是 3 個百和 1 個一合起來的
 ③是 30 個十和 1 個一合起來的
 ④是 3 個百和 1 個十合起來的
- () 3. 如圖，一共有多少元?

 ①1000 元 ②904 元 ③908 元
 ④909 元
- () 4. 下面哪一個數比 850 大，又比 950 小? ①905 ②598 ③805
 ④1000
- () 5. 民國 115 年是平年，所以 2 月有幾天? ①28 天 ②29 天 ③30 天
 ④31 天
- () 6. 下面哪一個月有 31 天?
 ①2 月 ②6 月 ③9 月 ④10 月
- () 7. 大雄從 3 月 16 日開始觀察綠豆的生長情形，一直觀察到 3 月 20 日發芽，一共觀察了幾天? ①4 天 ②5 天 ③6 天 ④7 天
- () 8. 靜香買了一盒製造日期是 4 月 10 日的蛋糕，保存期限是 5 天，所以有效日期是幾月幾日? ①4 月 14 日 ②4 月 15 日 ③4 月 16 日 ④4 月 17 日
- () 9. 1×9 比 1×7 多幾個 1?
 ①1 個 ②2 個 ③3 個 ④4 個
- () 10. $1 \square 7 = 7$ ， \square 中要填入 +、-

或 \times ，才能成為正確的算式?

①+ ②- ③ \times ④都不對

- () 11. 胖虎和小夫各寫了一個乘法算式。

胖虎：「 4×12 」

小夫：「 12×4 」

誰寫的算式計算後的答案比較大?

①胖虎 ②小夫

③一樣大 ④無法比較

二、填充題：(每答 2 分，共 24 分)

1. () $\rightarrow 805 \rightarrow$ () $\rightarrow 825 \rightarrow 835$
2. () $\rightarrow 901 \rightarrow 900 \rightarrow$ () $\rightarrow 898$
3. 7 個百和 15 個十合起來是()。
4. 個位數字是 9、十位數字是 0、百位數字是 8 的三位數是()。
5. 1000 可以換()張 100 和 10 個 10。
6. 大雄有 5 張數字卡 0、3、1、5、7。
 (1) 用 3 張數字卡，排出最大的三位數：()。
 (2) 用 3 張數字卡，排出最小的三位數：()。
7. 一年又 10 個月也可以說是()個月。
8. 一盒餅乾的保存期限是 15 個月，也就是()年又()個月。

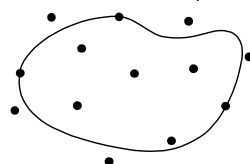
三、估估看，填填看。(每答 2 分，共 8 分)

104 498 391 206

- ① 上面哪兩個數相加最接近 900?
 () 和 ()
- ② 上面哪兩個數相減最接近 200?
 () 和 ()

四、看圖填填看：(每答 1 分，共 19 分)

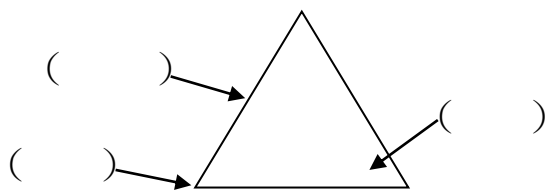
1.



① 在周界上的圓點有()個。

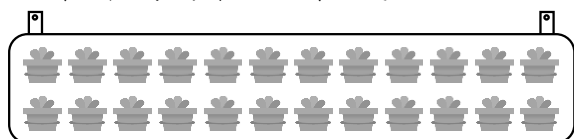
② 在周界內的圓點有()個。

2. 下圖是邊長 3 公分的正三角形，箭頭所指的地方分別叫做什麼？將適當的代號填入()中
- ㄅ. 頂點 ㄆ. 邊 ㄇ. 角



① 這個正三角形的周長是()公分。

3. 層架上共放了幾個小盆栽？寫出兩種不同的乘法算式。



算式①: () × () = ()

算式②: () × () = ()

答: () 個

4. 看表填填看：

7月						
日	一	二	三	四	五	六
			1	2	3	4
5	6	7	8	9	10	11
12	13	14	15	16	17	18
19	20	21	22	23	24	25
26	27	28	29	30	31	

8月						
日	一	二	三	四	五	六
						1
2	3	4	5	6	7	8
9	10	11	12	13	14	15
16	17	18	19	20	21	22
23	24	25	26	27	28	29
30	31					

- ① 暑假從 7 月 1 日開始，到 8 月 28 日結束，共放假()天。
- ② 7 月有()個星期又()天。
- ③ 大雄參加夏令營從 7 月 30 日開始進行 6 天，活動到()月()日結束。
- ④ 小夫全家到花東旅遊一星期，在 8 月 19 日結束旅遊，小夫全家是在是 8 月()日出發。

五、在□裡填入 >、< 或 =：

(每題 1 分，共 5 分)

① 460 □ 406 ② 898 □ 905

③ 六百九十九 □ 七百零一

④ 10×6 □ 6×10

⑤ 803 □ 8 個百和 12 個一

六、用直式算式做做看：(每題 3 分，共 6 分)

1. $227 + 165 = (\quad)$

2. $507 - 24 = (\quad)$

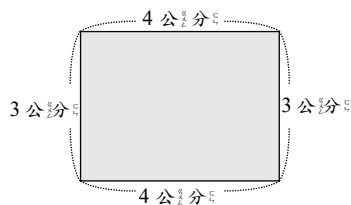
七、把做法和答案記下來：

(每題 4 分，共 16 分)

1. 一輛遙控汽車要 698 元，機器人比遙控汽車貴 237 元，機器人要多少元？

2. 靜香原來有一些錢，媽媽又給她 155 元，靜香就有 608 元，靜香原來有多少元？

3. 算出圖形的周長。



4. 下圖是用 4 張一樣大的正方形圖卡拼成的，拼成的新圖形周長是多少公分？

