

三年 班 號 姓名

一. 寫出直式算算看 每題3分共12分

① $87 \div 8 =$ ② $800 \div 2 =$

② $535 \div 5 =$ ④ $649 \div 8 =$

二. 連連看 每答2分共6分

1. 1袋雞蛋糕有8個，可以選兩種口味。媽媽要買1袋雞蛋糕，可以怎麼搭配？

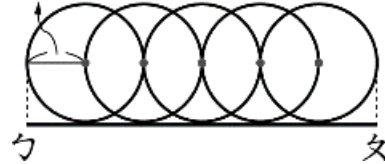
| | | | |
|-----------------------------|---|---|-----------------------------|
| (1) $\frac{4}{8}$ 袋奶油 口味 | . | . | (ㄅ) $\frac{1}{8}$ 袋紅豆 口味 |
| (2) $\frac{7}{8}$ 袋奶油 口味 | . | . | (ㄆ) $\frac{6}{8}$ 袋紅豆 口味 |
| (3) $\frac{2}{8}$ 袋奶油 口味 | . | . | (ㄏ) $\frac{4}{8}$ 袋紅豆 口味 |

三. 填一填 每答2分共48分

1. 沖一次馬桶大約用掉
5 (毫升, 公升) 的水。

2. 一杯珍珠奶茶大約
500 (毫升, 公升)

3. 勺到勺全長是 () 公分
2公分



4. 4公升 = () 毫升

5. 6公升 30毫升 = () 毫升

6. 7000毫升 = () 公升

7. 2公升 50毫升 + 900毫升
= () 公升 () 毫升

8. 7公升 980毫升 - 1公升 227毫升
= () 公升 () 毫升

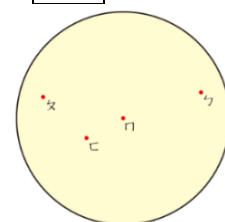
9. 一盒巧克力有12顆，爸爸買了一
盒，被恩恩吃掉了 $\frac{7}{12}$ 盒後，還剩下
() 盒。

10. $\frac{6}{12} + \frac{7}{12} =$ ()

11. 1包色紙有10張，寧寧用掉 $\frac{7}{10}$ 包，
舒舒用掉 $\frac{5}{10}$ 包，兩人總共用掉
() 包色紙。

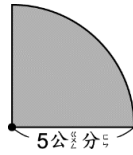
12. ① 勺、勺、勺、勺 哪一個點是圓的
圓心？答：() 是圓心。

② 請你用直尺畫出一條圓的直徑，
和一條半徑。




背面還有試題

13. 小璇把一張圓形的紙對摺再對摺，如下圖，這張紙打開後直徑是（ ）公分？



14. 甲是直徑 14 公分的圓，乙是半徑 10 公分的圓，哪一個圓比較大？
答：（甲，乙）圓比較大
15. 1 盒甜甜圈有 8 個，分成 8 等分，1 等分是 1 個。



- (1) 1 個甜甜圈是（ ）盒。
(2) 妹妹吃了 2 個甜甜圈，是吃了（ ）個 $\frac{1}{8}$ 盒，也就是（ ）盒。
(3) 爸爸吃了 6 個甜甜圈，是吃了（ ）個 $\frac{1}{8}$ 盒，也就是（ ）盒。
(4) 妹妹和爸爸共吃掉 1 盒甜甜圈，1 盒和 $\frac{(\quad)}{8}$ 盒一樣多。

四. 想一想，□裡是什麼數字？ 每格 1 分

$$\begin{array}{r}
 1 \square \\
 6 \overline{) \square \square} \\
 \underline{6} \\
 20 \\
 \underline{18} \\
 \square
 \end{array}$$

五. 比大小，填入 >、< 或 = 每格 2 分

1. 6540 毫升 □ 6 公升 450 毫升
2. 1 公升 7 毫升 □ 1007 毫升
3. 13 毫升 □ 3 公升
4. $\frac{3}{12}$ □ $\frac{9}{12}$
5. 1 □ $\frac{17}{10}$

六. 先寫出算式再算算看。每題 4 分共 16 分

1. 爸爸買了一包米和 3 瓶相同的鮮奶，共花了 520 元，一包米 235 元，一瓶鮮奶多少元？

先算：

再算：

答：

2. 媽媽將 630 元平分給兄妹 3 人當零用錢，哥哥買飲料花了 45 元，哥哥還剩下多少元？

先算：

再算：

答：

3. 奶奶把 1 公升 200 毫升的芭樂汁和 1080 毫升的柳橙汁倒在一起，做成綜合果汁，綜合果汁是幾公升幾毫升？

答：

4. 盤子裡有 83 片餅乾，每 4 片裝一袋，可以裝滿幾袋？如果全部的餅乾都要裝進袋子裡，總共需要幾個袋子？

答：

七. 請以 · 為圓心，畫一個直徑 4 公分的圓。4 分

•