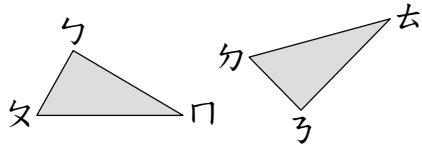


桃園市桃園區建德國小114學年度第一學期四年級數學領域期末定期評量試卷

四年____班____號 姓名：_____

一、選擇題：(每題2分，共8分)

- () 1. 下圖是兩個全等三角形， $\overline{ㄅㄅ}$ 的對應邊是？



- ① $\overline{ㄅㄆ}$ ② $\overline{ㄆㄇ}$ ③ $\overline{ㄅㄇ}$ ④ $\overline{ㄆㄅ}$

- () 2. 「 $99-90\div 9$ 」是多少？

- ① 89 ② 9 ③ 1 ④ 10

- () 3. 下列哪一個二位小數最大？

- ① 0.88 ② 0.08

- ③ 8.88 ④ 8.08

- () 4. 下面何者錯誤？

① $3 = \frac{30}{10}$ ② $15 = \frac{225}{15}$

③ $11 = \frac{121}{11}$ ④ $5 = \frac{55}{5}$

二、填填看：(每答2分，共34分)

1. 寫出下面小數的記法。

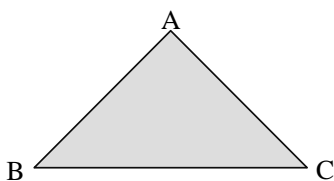
零點一五 → ()

2. 用小數填填看。

807公分 = ()公尺

3. 9個1、5個0.1和14個0.01合起來是 ()，讀作()。

- 4.



- (1) \overline{AB} 和 \overline{AC} 一樣長，請量一量 \overline{BC} 的長之後判斷，它是一個(正, 等腰)三角形。圈圈看

- (2) \angle ()是直角， \angle ()和 \angle ()一樣大，都是45度，它也是一個(銳, 直, 鈍)角三角形。圈圈看

- (3) 這樣的三角形叫做()三角形。

5. 有一個邊長是17公分的正三角形，它的周長是()公分。

6. 將先算的地方圈起來。

(1) $145+8\times 12$

(2) $3000\div 50-26$

7. 想想看，下列兩個算式，所得到的答案相同的打 \checkmark ，不相同的打 \times 。

$126\div 21\div 3$ $126\div (21\div 3)$

8. 真分數畫○，假分數打 \checkmark ，帶分數打 \times 。

$8\frac{2}{9}$ (), $\frac{7}{15}$ (), $\frac{30}{28}$ ()

三、計算題：(每題3分，共15分)

(1) $18-4.02=()$ (2) $159-(40+39)$

(3) $737+180\times 5$

(4) $\frac{6}{10}\times 10$

(5) $3-\frac{10}{11}$

注意：
第(4)、(5)題答案是假分數時要換成帶分數或整數。

四、連連看：(每答1分，共6分)

1. 下面各是什麼三角形？

45度、100度、35度

銳角三角形

62度、82度、36度

鈍角三角形

42度、48度、90度

直角三角形

2. 數字「3」各是在什麼位名？

77.35

個位

57.73

十分位

73.75

百分位

※背面還有題目，請繼續作答。

五、填入 >、< 或 =：(每題 1 分，共 5 分)

(1) $\frac{16}{7}$ $2\frac{5}{7}$

(2) 59.7 五十九點零七

(3) 0.80 0.8

(4) 七分之二十八 4

(5) 3 個 0.1 和 3 個 0.01 3.3

六、寫出做法和答案：(每題 3 分，共 12 分)

1. 奶奶每天都織 $1\frac{3}{8}$ 公尺的圍巾，一星期可以織多少公尺的圍巾？(用帶分數表示)

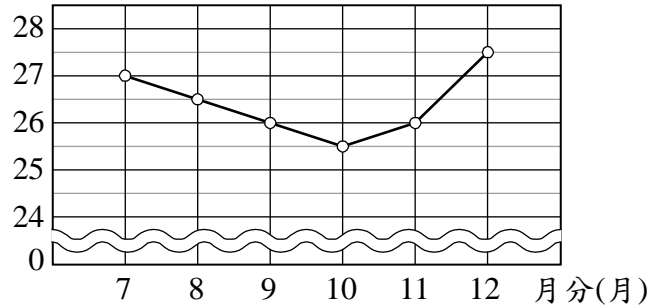
2. 小杯奶茶裝有 0.6 公升，大杯奶茶比小杯奶茶多裝了 0.38 公升，大杯奶茶有多少公升？

3. 一包果凍原價 30 元，果凍店特價每包便宜 5 元。麥斯共付了 500 元，是買了幾包果凍？(用一個算式記下來，再算算看)

4. 三盒蘋果共賣 2400 元，一盒水梨賣 950 元，買一盒蘋果比買一盒水梨少幾元？(用一個算式記下來，再算算看)

七、看圖回答問題：(第 1 題每答 2 分，第 2 題每答 1 分，共 20 分)

1. 下圖是小美 7 月~12 月的體重折線圖。(10%)
重量(公斤)

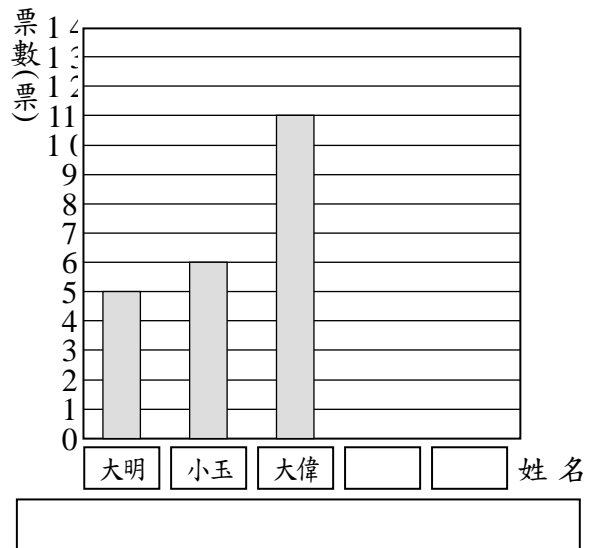


小美 7 月~12 月的體重折線圖

- 縱軸代表()。
橫軸代表()。
- 小美體重最重時是()月，是()公斤。
- 小美 10 月時的體重比 12 月時的體重輕()公斤。

2. 下面是四年乙班班長選舉的票數統計表，根據統計表完成長條圖，再回答問題。(10%)

姓名	大明	小玉	大偉	小英	大成
票數(票)	5	6	11	6	4



- ()和()的票數一樣多。
- 票數最多的是()，票數最少的是()，他們兩個人相差()票。

※寫完後，別忘了再檢查一遍!