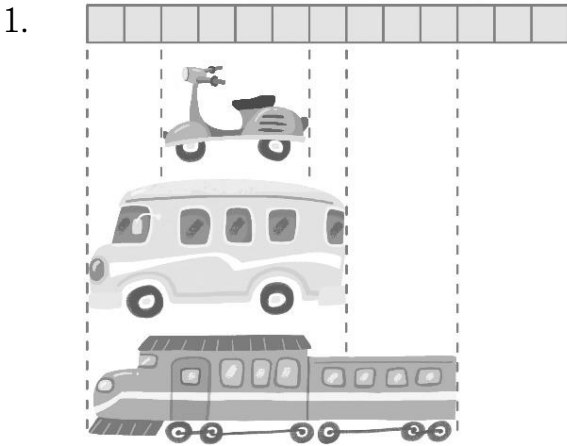


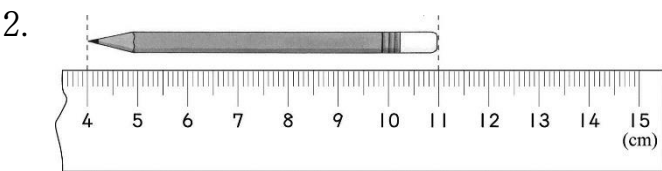
桃園市桃園區建德國小 110 學年度第一學期二年級數學領域期中定期評量試卷

二年()班()號 姓名：_____

一、看圖填填看：每格 2 分，共 12 分



- (1) 和 () 個 一樣長。
- (2) 和 () 個 一樣長。
- (3) 和 () 個 一樣長。
- (4) (,) 比較長，多 () 個 。



鉛筆長 () 公分。

二、寫出正確的答案：每個答案 2 分，共 50 分

1. 辰辰量黑板的寬，用木棒量了 11 次，用繩子量了 18 次，木棒和繩子哪一個比較短？
() 比較短。

2. 在 \square 裡填入 $>$ 或 $<$

(1) $148 \square 184$ (2) $200 \square 190$

3. 「1 個百和 2 個一」合起來是 ()。

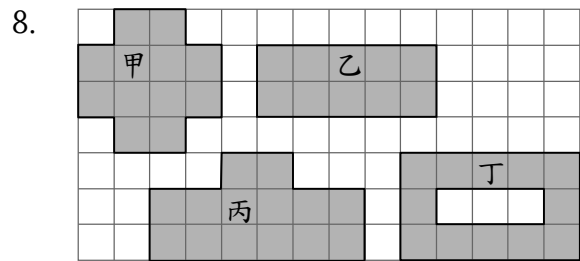
4. 「11 個十和 16 個一」合起來是 ()。

5.

6.

7. 從黑點開始，畫一條長 6 公分的直線。

•



(1) 上面圖形各和幾個 合起來一樣大？

甲：() 個

乙：() 個

丙：() 個

丁：() 個

(2) 哪個圖形的面積最大？()

9. 下列物品面積比數學課本封面大的打 \checkmark ，比數學課本封面小的打 \times

(1) () 一張學生卡

(2) () 教室的門

(3) () 一片口罩

10. (1) $7 + 54 = ()$

(2) $68 + 49 = ()$

背面還有題目喔！

11. 當鐘面上的分針轉了3圈，

是表示經過了()小時。

12. 樂樂全家花了2小時參觀植

物園，他們走出園區時是下午

3時，他們是下午()

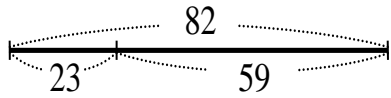
開始參觀的。

13. 我和爸爸從上午9時開始騎

車，騎了30分鐘，騎完時是

上午()。

14. 看圖填填看。



$23 + 59 = ()$ $82 - 23 = ()$

三、看鐘面填填看：每格1分

1.



()時()分

2.



()時()分

3.



()時()分

4.



()時()分

四、用直式算算看，並驗

算：每題4分(1, 1, 2)

(1) $32 - 15 = ()$

驗算：

(2) $93 - 58 = ()$

驗算：

五、連連看：(每線2分)



8:25

6:39

5:27

六、寫出算式(橫式)、直式和

答案：每題4分(2, 1, 1)，共16分

1. 鈴鈴把一條緞帶對摺，對摺後的緞帶長16公分，緞帶原來長幾公分？

答：_____

2. 弟弟摺了57艘紙船，哥哥比他多摺了43艘，哥哥摺了幾艘紙船？

答：_____

3. 君君有95元，買了一本68元的故事書後，還剩下幾元？

答：_____

4. 姐姐有100元，一盒彩色筆賣89元，一盒水彩筆比一盒彩色筆貴39元，一盒水彩筆賣幾元？

答：_____