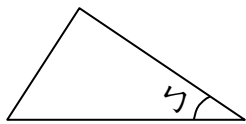


桃園市桃園區建德國小 110 學年度第一學期三年級數學領域 期中定期評量試卷

年 班 座號： 姓名：

一、 選擇題：(每題 2 分，共 10 分)

- () 1. 7 個千、2 個百和 7 個十合起來是多少？
 ①7207 ②7270 ③7027 ④7720
- () 2. $63\square0 > 6378$ ，在 \square 中可以填入一個數字，這個數字可能是多少？
 ①8 ②7 ③6 ④5
- () 3. 小瑋有 300 元，到書店買了一本 249 元的日記，老闆找他 41 元，對不對？
 ①對
 ②不對，老闆多找了錢給他
 ③不對，老闆少找了錢給他
 ④無法判斷
- () 4. 生活中，下列哪些物品沒有直角？
 ①數學課本
 ②一張報紙
 ③學生制服上的名牌
 ④一顆籃球
- () 5. 勺部位的正確名稱是什麼？



- ①頂點 ②頂邊 ③角 ④頂面

二、 填填看或圈圈看：(第 1 到 4 題，每格 2 分；第 5 到 8 題，每答 1 分，共 32 分)

1. 按照順序填填看。

$5727 \rightarrow 5827 \rightarrow () \rightarrow () \rightarrow 6127$

2. 按照順序填填看。

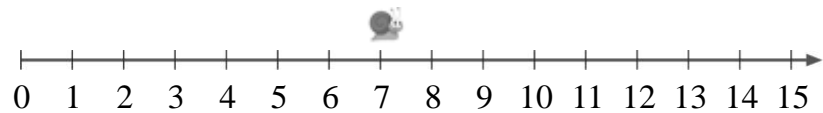
$8630 \rightarrow () \rightarrow 8610 \rightarrow 8600 \rightarrow ()$

3. 寫出下列數的正確讀法或阿拉伯數字。

(1) 「六千零六」用阿拉伯數字記成()。

(2) 「2089」讀作()。

4.



(1) 9 比 15 小，數線上 9 的位置在 15 的左邊還是右邊？()邊

(2) 蝸牛從 7 的位置往右移動 8 格，再往左移動 4 格，會停在哪一個數字？()

5. 填入【公升】或【毫升】。

(1) 刷牙的漱口杯一杯容量大約是 350()。

(2) 學校的擰拖把桶容量大約是 8()。

(3) 家裡煮湯的鍋子容量大約是 3()。

(4) 小朋友的水壺容量大約是 800()。

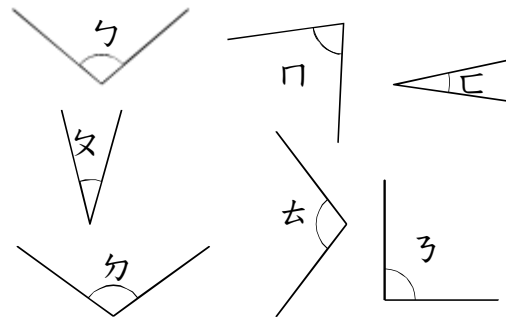
6. 估估看，大約是多少？在 \square 裡打 \surd (2 分)

489×3

1200 1300 1500

我的估法

7. 用三角板比比看，哪些是直角？哪些是銳角？哪些是鈍角？請填上代號。(一個代號 1 分)

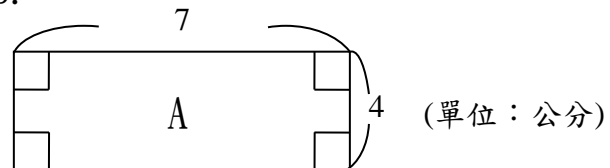


(1) 直角：()

(2) 銳角：()

(3) 鈍角：()

8.



(1) A 圖邊長是 7 公分的有幾條？()條

(2) A 圖邊長是 4 公分的有幾條？()條

(3) A 圖有幾個直角？()個

三、 寫成直式算算看：(每題 3 分，共 18 分)

(1) $108 + 2732 = ()$ (2) $5800 - 3742 = ()$

(3) $85 \times 3 = ()$ (4) $609 \times 7 = ()$


(5) 3 公升 185 毫升 + 1 公升 416 毫升
 = () 公升 () 毫升

【背面還有題目】

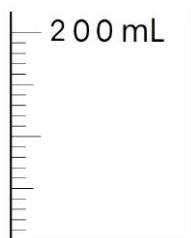
(6) 4 公升 950 毫升 - 2 公升 75 毫升
= () 公升 () 毫升

四、畫畫看：(每題 2 分，共 6 分)

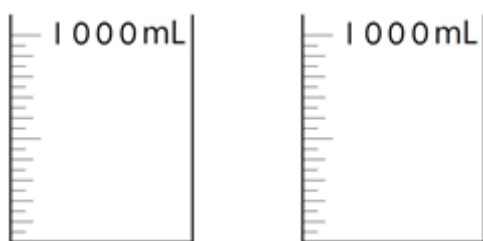
1. 媽媽買了一臺 4376 元的多功能烤箱，怎麼付錢才會剛好？用 1000、100、10 和 1 畫畫看。



2. 畫出 160 毫升的水量。



3. 畫出 1 公升 750 毫升的水量。



五、在 裡填入適當的數字(每格 1 分，第 (3) 題乘出的答案 1 分，共 10 分)

(1)

$$\begin{array}{r} 1 \square 5 \square \\ + 3 2 4 7 \\ \hline \square 5 0 4 \end{array}$$

(2)

$$\begin{array}{r} 5 \square 4 5 \\ - 2 3 \square 9 \\ \hline \square 4 1 6 \end{array}$$

(3) 將 4、6、7 填入 ，讓答案最大，並算出答案。

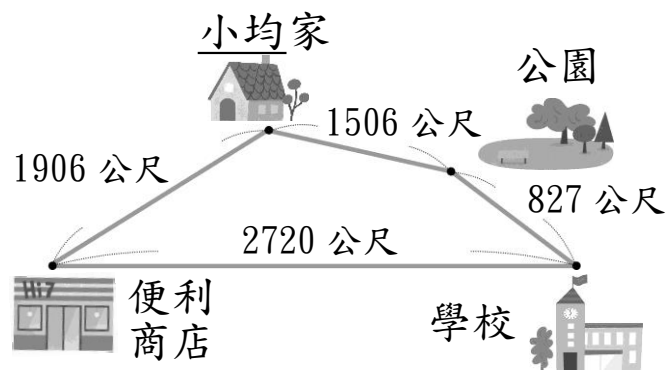
$$\begin{array}{r} \square \square \square \\ \times \quad 3 \\ \hline \square \square \square \end{array}$$

六、把做法和答案記下來：
(每題 4 分，共 24 分)

(1) 小星到大賣場，買了一大瓶 1550 毫升的鮮奶和一大瓶 1 公升 285 毫升的紅茶，全部加在一起調成鮮奶茶，請問鮮奶茶共幾公升幾毫升？

(2) 小日準備一個容量 5 公升的茶桶，已經裝了 1300 毫升的紅茶，最多還可以再加入多少毫升的紅茶？

(3)



① 小均從家裡走到公園，再走到學校，共走了多少公尺？

② 小均從家裡走到便利商店的距離，跟從學校走到便利商店的距離，相差多少公尺？

③ 小均的哥哥從學校走到公園，參加完活動後，再走回學校，共走了多少公尺？(請用乘法)

(4) 一瓶養樂多是 12 元，一瓶果汁的價格是養樂多的 3 倍，小均的媽媽每天上班前都會買一瓶果汁，請問一星期媽媽要花多少錢買果汁？
(請用乘法)

先算：

再算：

【恭喜你寫完了，請記得檢查！】