







一、選擇題：(每題 2 分，共 10 分)

( ) 1. 小天排隊排在第 18 個，她後面第 3 個人是排在第幾個？

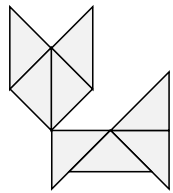
- ① 第 15 個 ② 第 17 個  
③ 第 20 個 ④ 第 21 個

( ) 2. 一條  和 10 個  一樣多，2 條  和 11 個  合起來和幾個  一樣多？

- ① 20 個 ② 30 個 ③ 31 個 ④ 41 個

( ) 3. 數一數，這個圖形是用幾塊  排出來的？

- ① 6 個 ② 7 個  
③ 8 個 ④ 9 個

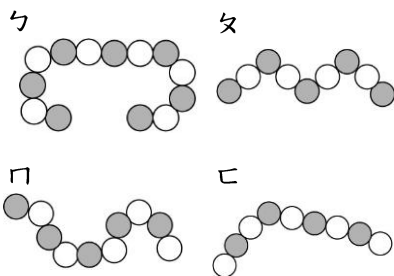


( ) 4. 哪一個算式的答案和「5+6」的答案一樣？

- ① 5+8 ② 6+5 ③ 7+5 ④ 6+6

( ) 5. 每個珠子都一樣大，哪一串項鍊最長？

- ① ㄅ ② ㄆ ③ ㄇ ④ ㄊ



二、算算看：(每題 2 分，共 4 分)

(1)  $6+8=( )$       (2)  $17-9=( )$

三、填填看：(每格 2 分，共 44 分)

1.  $20-25-( )-( )-40$

2.  $41-40-( )-( )-37$

3.  $50-40-( )-( )-10$

4.  $26-( )-30-32-( )$

5. 算式： $8+6=14$ ，和是( )，

加數是( )，被加數是( )。

6. 一包糖果有 48 顆，分給妹妹 10 顆，剩下( )顆糖果；再分給弟弟 10 顆，還剩下( )顆糖果。

7. 觀察算式的規律，並把答案填在( )裡。

$11-3=8$

$11-4=7$

$11-5=( )$

$11-6=( )$

$11-7=( )$

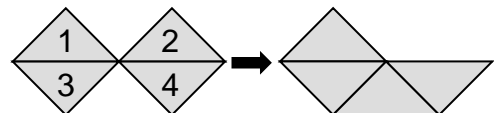
8. 運動會的投籃比賽，用「正」字記錄投進的球數，先完成表格再回答問題。

一班	正	投進( )球
二班	正	投進( )球
三班	正下	投進( )球
四班	正	投進( )球

哪一班投進最多球？

答：( )班

9. 左邊圖形移動( )號圖形之後，會變成右邊的圖形。

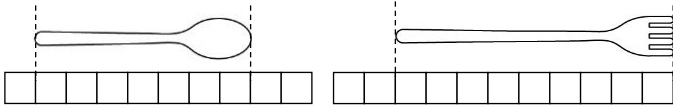


背面還有題目

四、勾選題(每題 2 分, 共 6 分)

1. 老師買了 36 瓶牛奶, 要送給 28 個小朋友一人一瓶, 夠不夠?  
 ( ) 夠 ( ) 不夠

2. 哪一枝比較短? 在( )裡打√。  
 (1)( ) (2)( )



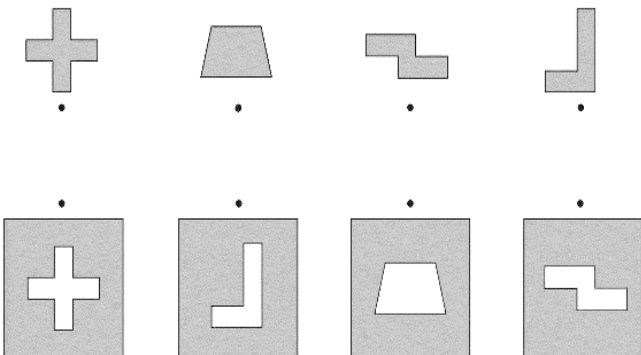
3. 把比較大的數在( )裡打√。  
 (1) 43 (2) 48  
 ( ) ( )

五、連連看: (每線 2 分, 共 16 分)

1. 把答案一樣的算式連起來。

$15-6$	·	·	$14-8$
$13-7$	·	·	$17-8$
$11-3$	·	·	$16-9$
$12-5$	·	·	$15-7$

2. 這些圖形板剛好可以放在哪裡呢? 連連看。



六、用算式記錄: (每題 4 分, 共 20 分)

1. 小青生日帶了巧克力足球糖和軟糖, 送給小朋友後, 巧克力足球糖剩下 7 個, 軟糖剩下 6 個, 小青還剩下幾個糖果?

答: ( ) 個

2. 有 8 個布丁和 16 個蛋糕, 請問蛋糕比布丁多幾個?

答: 多( ) 個

3. 籃子裡有 9 顆紅球和 5 顆綠球, 請問籃子裡一共有幾顆球?

答: ( ) 顆

4. 一盒雞蛋有 8 顆, 請問 2 盒雞蛋共有幾顆?

答: ( ) 顆

5. 紅色繩子和 9 個花片一樣長, 藍色繩子和 18 個花片一樣長, 紅色繩子比藍色繩子少幾個花片長?

答: 少( ) 個花片長

寫完了, 要仔細檢查喔!