

一、填填看看:

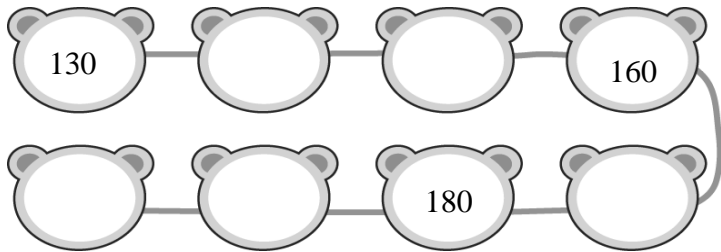
(每題答 1 分, 共 20 分)

1. 123 有 () 個一、() 個十和 () 個百。

2. 150 的十位數字是 (), 表示 () 個十。



3. 138 的 3 在十位, 表示 ()。




4. 從 130 開始十個一數, 填上數字。



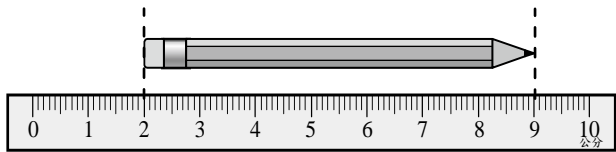
5. 「168」讀作 ()。

6. 「137、153、185、101」這四個數中, 最大的數是 (), 最小的數是 ()。

7. 三張 , 可換成 () 個 .

8. 一張 , 可以換成 () 個  和 10 個 .

9. 下面這枝筆有多長? () 公分。



10. 下表是佳佳和柔柔比賽跳繩的紀錄:

	第一次	第二次	兩次共跳幾下
佳佳	47 下	★ 下	91 下
柔柔	41 下	58 下	▲ 下

(1) $47 + \star = 91$, $\star = ()$ 下

(2) $41 + 58 = (\blacktriangle)$, $\blacktriangle = ()$ 下

(3) () 跳比較多下。

二、連連看看:

把答案相同的連起來。

(每題 2 分, 共 8 分)

① $93 - 47$	•	•	ㄅ $9 + 60$
② $23 + 46$	•	•	ㄆ $58 + 41$
③ $91 + 8$	•	•	ㄇ $50 - 4$
④ $68 - 29$	•	•	ㄏ $49 - 10$

三、在 \square 中填入 $>$ 、 $<$ 或 $=$
(每題 2 分, 共 10 分)

(1) $99 - 6 \square 99 - 19$

(2) $62 - 8 \square 62 + 8$

(3) $109 \square 190$

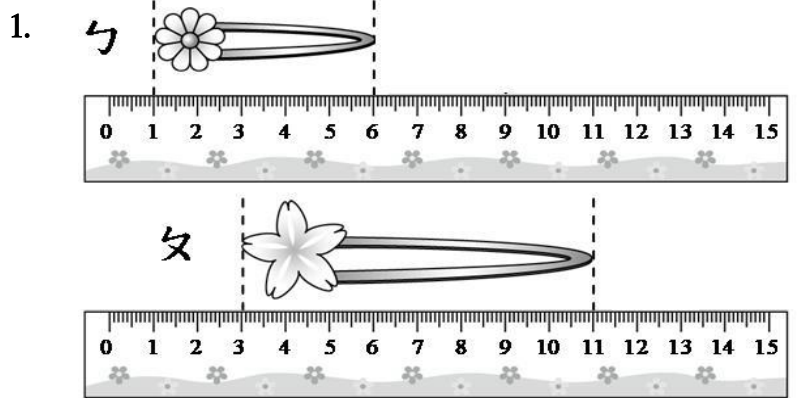
(4) $17 + 26 \square 43$

(5) $34 \square 72 - 38$




四、看圖回答下面的問題:

(每題 2 分, 共 12 分)



(1) ㄅ () 公分 ㄆ () 公分

(2) ㄆ 比 ㄅ 長 () 公分



(1) 鴨和 () 隻猴子一樣高。

(2) 鴨和 () 隻鴨子一樣高。

(3) 猴子和鴨子, 哪一個比較高?
請把答案圈起來。

(猴子, 鴨子)



背面還有題目喔!

五 寫成直式計算算式看：

(每題 4 分，共 16 分)

(1) $6 + 27 = (\quad)$ (2) $26 + 18 = (\quad)$

(3) $81 - 26 = (\quad)$ (4) $94 - 28 = (\quad)$

六 先用直式計算算式看，再驗算：

(每題 4 分，共 8 分)

(1) $59 - 48 = (\quad)$	驗算：
(2) $81 - 4 = (\quad)$	驗算：

七 畫畫看：

(每題 3 分，共 6 分)

189 元

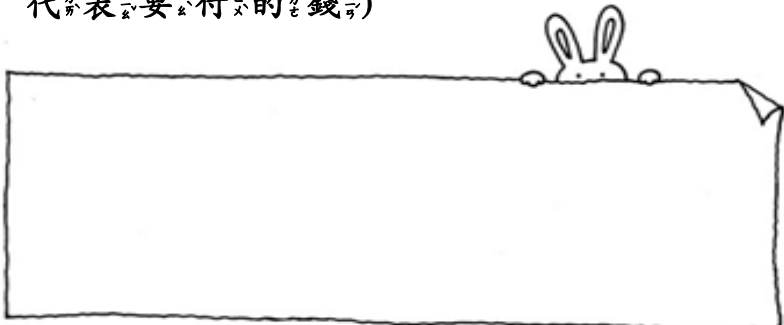
132 元



(1) 小潔有 2 個 50、6 個 10 和 8 個 1，想買一個 189 元的熊布偶，她的錢夠不夠？圈圖看。

(夠、 不夠)

(2) 小蓁想買 132 元的故事書，可以怎麼付錢？(請用 100、10、1 代表要付的錢)



八 把做法用橫式記下來，並寫出：

直式及答案：(每題 4 分，共 20 分)

1. 綸綸看了一本故事書，昨天看了 29 頁，今天又看了 39 頁，剛好把書看完，這本書共有幾頁？

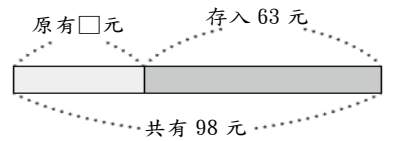
橫式：

直式：

2. 維維的撲滿裡原有一些錢，再存入 63 元後，共有 98 元，撲滿裡原有多少元？

橫式：

直式：



3. 一條緞帶綁禮盒用掉 19 公分後，還剩下 16 公分，這條緞帶原來長幾公分？

橫式：

直式：

4. 小楷的體重是 49 公斤，東東比小楷輕 14 公斤，東東的體重是幾公斤？

橫式：

直式：

5. 小竹有 90 元，買了一本筆記本後，剩下 22 元，請問筆記本一本多少元？

橫式：

直式：



寫完後，請仔細檢查喔！