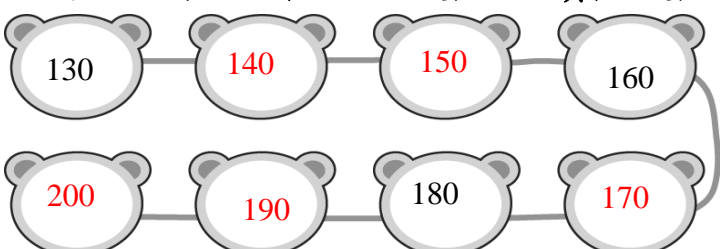







一、填填看看

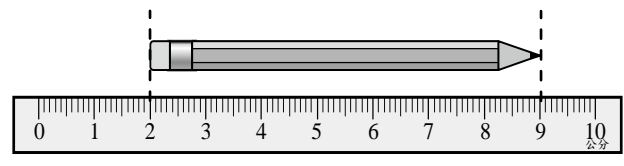
(每題答 1 分，共 20 分)

- 123 有 (3) 個一、(2) 個十和 (1) 個百。
- 150 的十位數字是 (5) 表示 (5) 個十。
- 138 的 3 在十位，表示 (30)。
- 從 130 開始十個一數，填上數字。

- 「168」讀作 (一百六十八)。
- 「137、153、185、101」這四個數中，最大的數是 (185)，最小的數是 (101)。

7. 三張 ，可換成 (6) 個 。

8. 一張 ，可以換成 (9) 個 

和 10 個 。
 9. 下面這支筆有多長？(7) 公分。



10. 下表是佳佳和柔柔比賽跳繩的紀錄：

	第一次	第二次	兩次共跳幾下
佳佳	47 下	★ 下	91 下
柔柔	41 下	58 下	▲ 下

- (1) $47 + \star = 91$, $\star = (44)$ 下
- (2) $41 + 58 = (\blacktriangle)$, $\blacktriangle = (99)$ 下
- (3) (柔柔) 跳的比較多下。

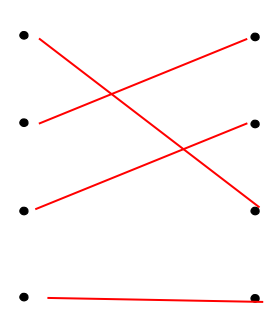


背面還有題目喔！

二、連連看看

把答案相同的連起來

(每題 2 分，共 8 分)

① $93 - 47$		ㄅ $9 + 60$
② $23 + 46$		ㄆ $58 + 41$
③ $91 + 8$		ㄇ $50 - 4$
④ $68 - 29$		ㄏ $49 - 10$

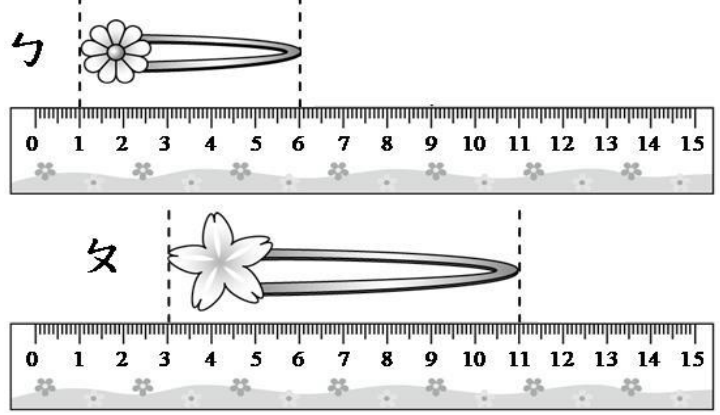
三、在 \square 中填入 $>$ 、 $<$ 或 $=$

- (1) $99 - 6 \square 99 - 19$
- (2) $62 - 8 \square 62 + 8$
- (3) $109 \square 190$
- (4) $17 + 26 \square 43$
- (5) $34 \square 72 - 38$




四、看看圖回答下面的問題

(每題 2 分，共 12 分)

1. 

- (1) 花 (5) 公分，筆 (8) 公分
- (2) 筆比花長 (3) 公分

2. 

- (1) 駝鳥和 (4) 隻猴子一樣高。
- (2) 駝鳥和 (5) 隻鴨子一樣高。
- (3) 猴子和鴨子，哪一個比較高？請把答案圈起來。

(猴子，鴨子)

五 寫成直式計算看看

(每題 4 分, 共 16 分)

1. $6 + 27 = (33)$

$$\begin{array}{r} 6 \\ + 27 \\ \hline 33 \end{array}$$

2. $26 + 18 = (44)$

$$\begin{array}{r} 26 \\ + 18 \\ \hline 44 \end{array}$$

3. $81 - 26 = (55)$

$$\begin{array}{r} 81 \\ - 26 \\ \hline 55 \end{array}$$

4. $94 - 28 = (66)$

$$\begin{array}{r} 94 \\ - 28 \\ \hline 66 \end{array}$$

六 先用直式計算看看, 再驗算

(每題 4 分, 共 8 分)

(1) $59 - 48 = (11)$

$$\begin{array}{r} 59 \\ - 48 \\ \hline 11 \end{array}$$

驗算:

$$\begin{array}{r} 11 \\ + 48 \\ \hline 59 \end{array}$$

(2) $81 - 4 = (77)$

$$\begin{array}{r} 81 \\ - 4 \\ \hline 77 \end{array}$$

驗算:

$$\begin{array}{r} 77 \\ + 4 \\ \hline 81 \end{array}$$

七 畫畫看看

(每題 3 分, 共 6 分)

189 元


132 元



(1) 小潔有 2 個 50、6 個 10 和 8 個 1, 想要買一個 189 元的熊布偶, 她的錢夠不夠? 圈出看看。

(夠 、 不夠)

(2) 小葉想要買 132 元的故事書, 可以怎麼付錢? (請用 100、10、1 代表要付的錢)



八 把做法用橫式記下來, 並寫出

直式 (每題 4 分, 共 20 分)

1. 綸綸看了一本故事書, 昨天看了 29 頁, 今天又看了 39 頁, 剛好把書看完, 這本書共有幾頁?

橫式: $29 + 39 = 68$

直式:

$$\begin{array}{r} 29 \\ + 39 \\ \hline 68 \end{array}$$

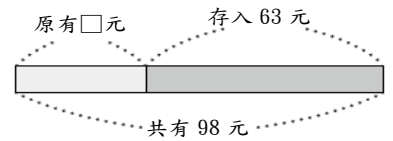
答: (68) 頁。

2. 維維的撲克牌裡原有一些錢, 再存入 63 元後, 共有 98 元, 撲克牌裡原有多少元?

橫式: $98 - 63 = 35$

直式:

$$\begin{array}{r} 98 \\ - 63 \\ \hline 35 \end{array}$$



答: (35) 元。

3. 一條緞帶綁禮盒用掉 19 公分後, 還剩下 16 公分, 這條緞帶原來長幾公分?

橫式: $19 + 16 = 35$

直式:

$$\begin{array}{r} 19 \\ + 16 \\ \hline 35 \end{array}$$

答: (35) 公分。

4. 小楷的體重是 49 公斤, 東東比小楷輕 14 公斤, 東東的體重是幾公斤?

橫式: $49 - 14 = 35$

直式:

$$\begin{array}{r} 49 \\ - 14 \\ \hline 35 \end{array}$$

答: (35) 公斤。

5. 小竹有 90 元, 買了一本筆記本後, 剩下 22 元, 請問筆記本多錢?

式: $90 - 22 = 68$

直式:

$$\begin{array}{r} 90 \\ - 22 \\ \hline 68 \end{array}$$

答: (68) 元。

寫完後, 請仔細檢查喔!

